

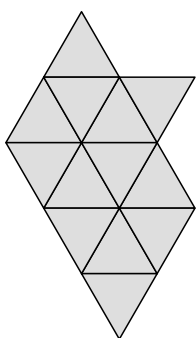
Задача 3.3. Купец в бочку заливает мёд и взвешивает бочку с мёдом: 65 кг. Потом заполняет половину другой такой же бочки керосином и взвешивает бочку с керосином: 20 кг. Керосин в 2 раза легче мёда. Сколько весит пустая бочка? **Ответ:** _____

Напишите своё решение ниже

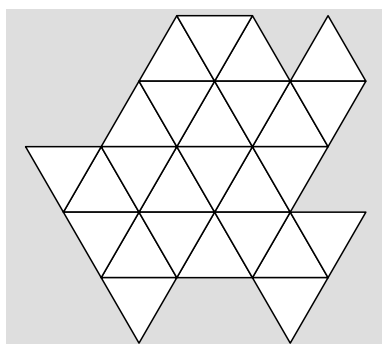


Задача 3.4. Слева на рисунке — драгоценный камень Кощея, справа — сундук. Камень надо положить в сундук так, чтобы он целиком туда поместился. Нарисуйте, как камень будет лежать в сундуке. Камень можно поворачивать.

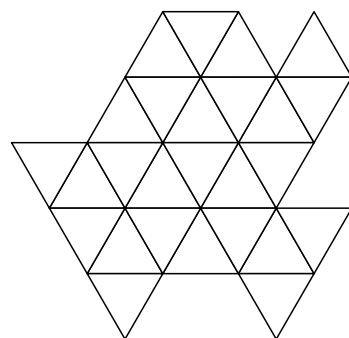
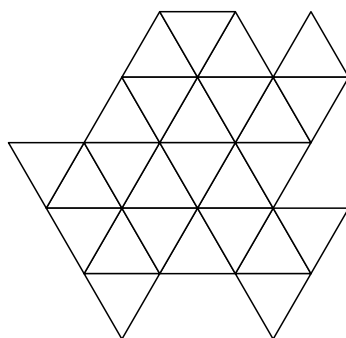
Камень



Сундук




Черновики



Задача 3.5. За столом собрались три моряка. Каждый из них либо всегда говорит правду, либо всегда лжёт. Сначала они сказали это (порядок высказываний обозначен цифрами):



Затем они сели в другом порядке и сказали это (порядок высказываний обозначен цифрами):



Подпишите имена моряков на второй картинке.

Напишите своё решение ниже



Задача 3.6. Путешественник проехал 80 вёрст, после чего ему осталось ехать до места назначения то количество вёрст, которое в 2 раза меньше того расстояния, которое ему осталось бы, если бы он проехал в 2 раза меньше. Сколько вёрст всего он должен был проехать? **Ответ:** _____

Напишите своё решение ниже

Задача 3.7. Однажды к двум друзьям-пиратам прилетел волшебник и предложил каждому из них: «Пожелай сколько хочешь сундуков с золотом, и я дам тебе их. Но твоему другу я дам вдвое больше». Каждый согласился и высказал своё пожелание. В результате у пирата Джека оказалось 11 сундуков с золотом, а у пирата Бена — 13 сундуков. Сколько сундуков пожелал себе Джек и сколько — Бен?

Ответ: _____ .

Напишите своё решение ниже

